



Stratygrafia

opisywanie warstw ziemi przez archeologa

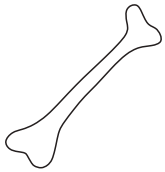
Zadanie 1 Narysuj zabytki w dobrych miejscach!




B1 C6



D3



A3 4A C8 D1



C4 B7

Zadanie 2 Pokoloruj warstwy!

A - na czarno

B - na brązowo

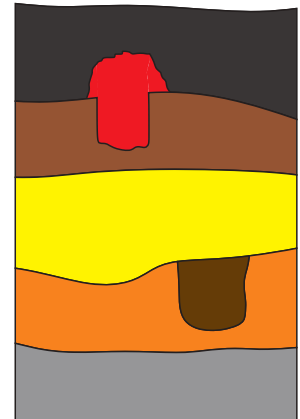
C - na żółto

D - na pomarańczowo

E - na szaro

F - na czerwono

G - na brązowo



Zadanie 3 Która to warstwa? Wpisz literkę w kwadracik!

Na samej górze jest warstwa i jest ona najmłodsza.

Na samym dole jest warstwa i jest ona najstarsza.

Warstwa **D** jest wyżej od warstwy i jest od niej młodsza.

Warstwa **C** jest niżej od warstwy i jest od niej starsza.

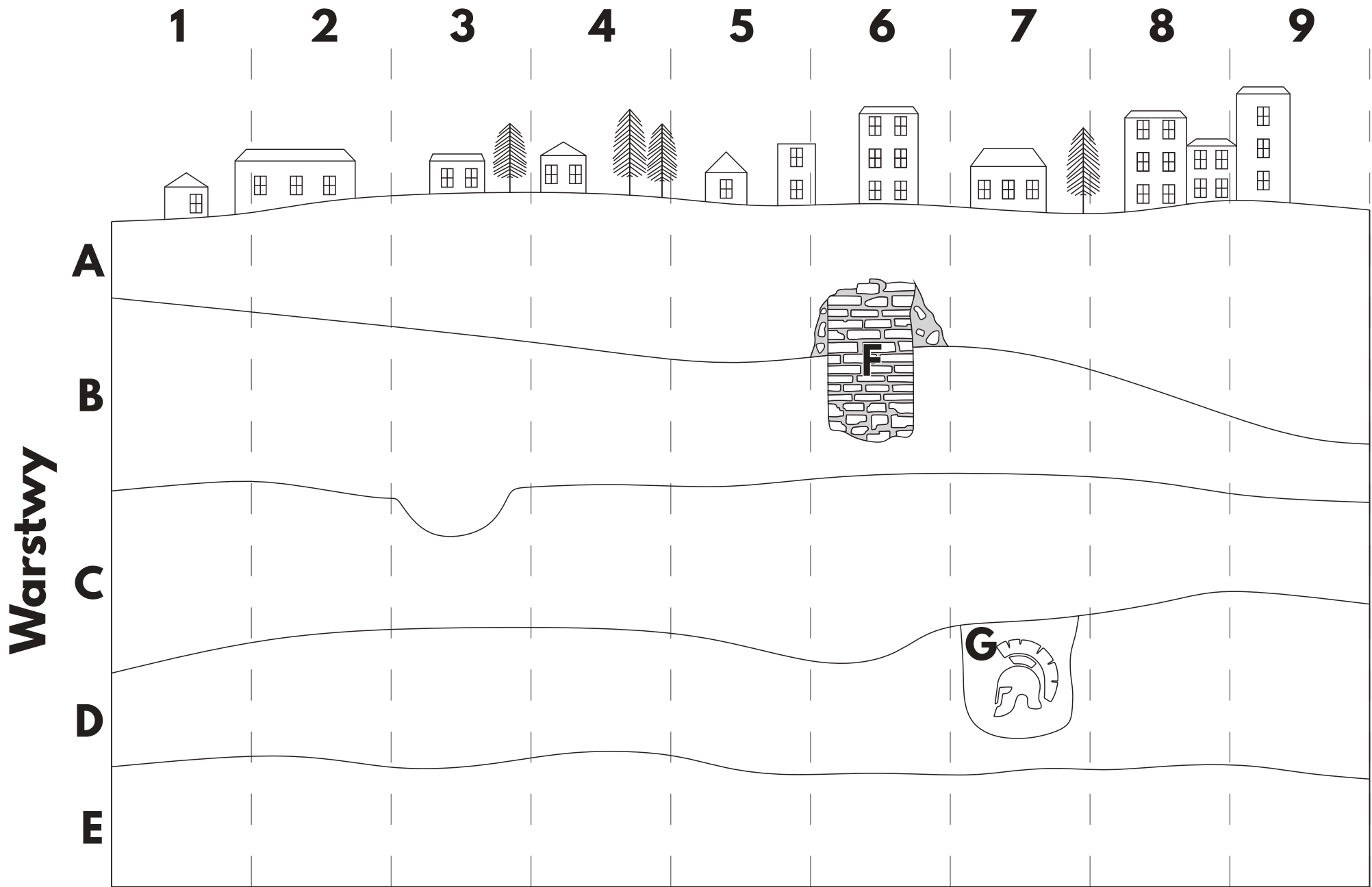


jest w warstwie .



ARCHEOLOGICZNE WARSZTATY.PL
przedszkola · szkoły · urodziny · eventy

pomóżmy małej Hani: www.siepomaga.pl/hania



Warstwy